

KAART VAN SUID-AFRIKA



Die 9 Provinsies van Suid-Afrika

- Noord-kaap
- Wes-kaap
- Oos-kaap
- Noord-wes
- Vrystaat
- Gauteng
- Kwazulu-natal
- Mpumalanga
- Limpopo



Hoe jy die volgende moet afskryf:

- Jy skryf eers die Provinsie se naam neer (wat jy reeds op die vorige slide gesien het) en dan direk langs aan hom die Provinsie se hoofstad se naam.
- Bv. Noordkaap: Kimberley
- Wenk. Fokus op die posisie waar die hoofstad verskein op die SA kaart.

Noord-Kaap



Kimberley se Gat



Wes-Kaap



Tafelberg



Oos-Kaap



Mpongo Natuur reservaat



Noord-Wes



Hartbeespoort Dam



Vrystaat




Vaal dam




Gauteng



Gold reef city




Voortrekker Monument



KwaZulu-Natal



uShaka Marine World



Mpumalanga



Kruger Wildtuin



Limpopo



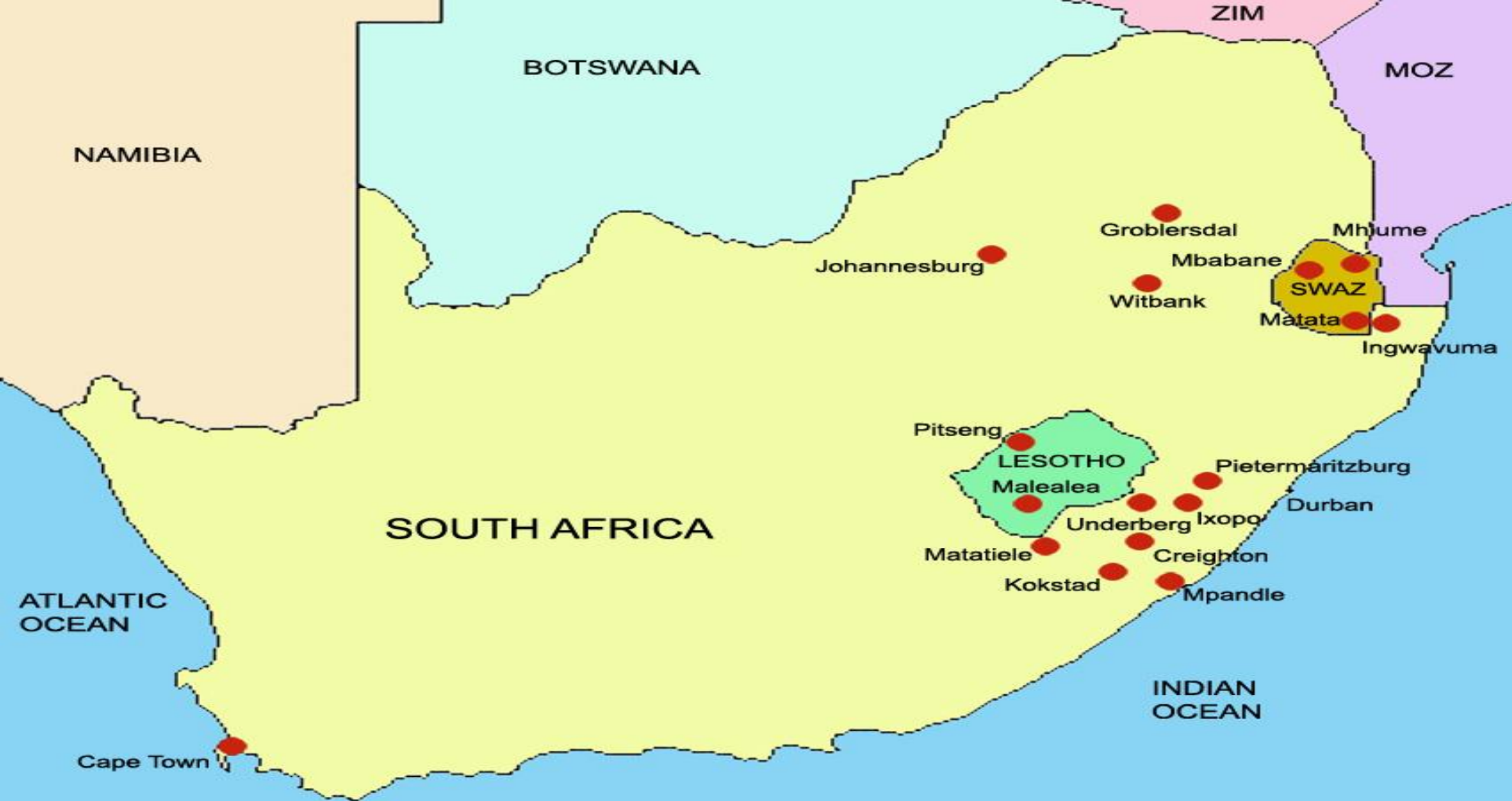
Drakensberg



Lande wat aan Suid-Afrika grens

- Namibië
- Botswana
- Zimbabwe
- Mosambiek
- Lesotho
- Swaziland







Suid-Afrika het 14 Nasionale Paaie

- Die 3 Nasionale paaie wat bespreek gaan word is:
- N1
- N2
- N3

N1

- ➔ Die N1 is 'n hoofweg in Suid-Afrika wat strek vanaf Kaapstad deur Bloemfontein, Johannesburg, Pretoria en Polokwane tot in Beit Brug op die grens van Zimbabwe.



N2

- Die N2 is 'n hoofweg wat strek deur kUSDorpe soos Kaapstad, Mosselbaai, George, Knysna, Port Elizabeth, Bhisho, Oos-Londen, Durban, Pietretief en Ermelo




N3

- ➔ Die N3 is 'n hoofweg wat Johannesburg en Durban met mekaar verbind.





3 Hoof hawens van Suid-Afrika

- Kaapstad
 - Port Elizabeth
 - Durban
- 



Aktiwiteite wat voltooi moet word

- Voltooi aktiwiteit op BL 89 in jou skrif.
- Teken/plak 'n “blank” kaart van Suid-Afrika in jou skrif. Skryf dan ook elke provinsie se naam op die kaart neer, asook elke provinsie se hoofstad.